



**Sindhi High School, Bengaluru**  
**Half Yearly Exam 2024-25**  
**Subject - English**

**Class: 4**  
**Date: 23/9/2024**  
**No. of printed sides: 6**

**Max Marks: 60**  
**Reading Time: 8-8.15am**  
**Writing Time: 8.15-10.45am**

**General Instructions**

This paper contains **THREE** sections:

Section A - Reading- 16 Marks

Section B - Writing & Grammar- 20 Marks

Section C- Literature- 24 Marks

**All sections are compulsory.**

**Section A-Reading (16 Marks)**

**I A. Read the passage given below and answer for the questions that follow:**

**(1x8=8M)**

- 1 In an astonishing and furry adventure, a "sloth" of at least 8 bears decided to throw a bear-sized party in a family's home, eating all the food and leaving behind a scene of chaos. The family, returning home, was greeted by a sight that could only be described as a bear bonanza.
2. CCTV footage captured the moment when the bears, with a mix of excitement and curiosity, entered the home and went straight to the kitchen. From porridge to honey and even some sandwiches, the bears indulged in a feast fit for a bear king. The footage showed the bears inspecting the fridge, cupboards, and even trying their paws at using kitchen utensils.
3. The family, though shocked at the sight of their trashed home, couldn't help but marvel at the playful antics of the unexpected guests. Fortunately, no one was harmed during the bear bonanza, and the bears eventually left the house, disappearing into the nearby wood.

1. How many bears entered the family's home?

a) 1 bear

c) 4 bears

b) 8 bears

d) bear sized party

2. What did the bears do in the family's home?

a) They ate all the food

c) It drank the water first

b) They created chaos

d) both (a) and (b)

3. What captured the moment when the bears entered the home?

- a) CCTV footage
- b) Neighbours
- c) Family
- d) Bear

4. Complete the following: -

- a) The family marvelled at \_\_\_\_\_
- b) The bears ate \_\_\_\_\_

5. Was anyone injured during the bear bonanza?

6. Suggest a suitable title for the story.

7. Find antonyms (opposite meaning) of the given words from the passage: (1/2x2=1)

- a) far (Para 3)
- b) expected (Para 3)

**B. Read the passage given below and answer for the questions that follow: (1x8=8M)**

1. The milkman's cow was in a bad mood. It sat in the middle of the road and refused to move. The milkman begged the cow to get up. "The children are waiting for their milk to help them grow strong. Please get up," he pleaded. He pulled and tugged and prayed. But the cow wasn't going anywhere that day.

2. Along came a policeman, his buttons and buckles gleaming bright. "Humph," he said, twirling his long moustache, "I'll show you how to do it right." The policeman and the milkman pulled and tugged and prayed. But the cow wasn't going anywhere that day.

3. Along came a grocer with bags of potatoes and peas. He said, "I'll move this cow with the greatest of ease." The grocer, the policeman and the milkman pulled and tugged and prayed. But the cow wasn't going anywhere that day.

4. Along came a wrestler, his muscles gleaming in the sun. He said, "I have the strength of ten horses, so this should be fun." The wrestler, the grocer, the policeman and the milkman pulled and tugged and prayed.

1. Who was in a bad mood?

- a) Milkman
- b) Milkman's cow
- c) Policeman
- d) Children

2. Where did the cow sit down?

- a) left side of the road
- b) right side of the road
- c) zebra crossing
- d) middle of the road

3. Who are waiting for the milk?

- a) Children
- b) Wrestler

- c) Policeman
- d) Grocer

4. Who came with a bag of potatoes and peas?

- a) Milkman
- b) Cow

- c) Grocer
- d) Policeman

5. Who had a long moustache?

- a) Milkman
- b) Wrestler

- c) Grocer
- d) Policeman

6. Complete the following: -

a) The wrestler had the strength of \_\_\_\_\_.

b) The buttons and buckles of the policeman were \_\_\_\_\_.

7. Find antonyms (opposite meaning) of the given words from the passage: (1/2x2=1)

a) pushed (Para 1)

b) agreed (Para 1)

### Section B- Writing and Grammar (20 Marks)

II Write a story with the help of the picture and clues given below.

4 Marks



Friends-Tree house- nature- love trees- happy- relax- activities- spring time- animals- plant trees.



### **III DO AS DIRECTED:**

#### **1. Fill in the blanks with suitable pronouns.**

(1x4=4Marks)

- a) My neighbours are college students. \_\_\_\_\_ are very noisy.
- b) I invited all of \_\_\_\_\_ friends, but none of \_\_\_\_\_ turned up.
- c) I fell down and hurt \_\_\_\_\_.

#### **2. Choose the correct word and fill in the blanks:**

(1x4=4Marks)

- a) There is a small park (**in/on/at**) the top of the hill.
- b) We slept (**on/ under/ between**) the open sky.
- c) The dog ran (**through/ towards/ across**) me.
- d) She sat (**between/ in/ beside**) her during dinner.

#### **3. Fill in the blanks with the correct form of verb:**

(1x4=4Marks)

Last week (a) \_\_\_\_\_ (**is/will be/was**) Road safety week at school. All the students (b) \_\_\_\_\_ (**has/had/have**) to attend a talk given by a police officer. The rules of the road (c) \_\_\_\_\_ (**is/ are/were**) very simple. If we (d) \_\_\_\_\_ (**learnt/ learns/learn**) them and obey them, we could avoid accidents.

#### **4. Rewrite the following sentences using conjunctions given below:**

(1x4=4Marks)

(or, because, and, but)

- a) I went to his house. He was not there.
- b) I was sad. I lost my purse.
- c) Run fast. You will miss the bus.
- d) Harish is tall. Harish is handsome.

### **Section C- Literature (24 Marks)**

#### **IV 1. Read the following extract and answer the questions that follow: (1x4=4Marks)**

“There was only one player who caused him the deepest anxiety”

- a) From which lesson has the above extract been taken?

- |                                   |                          |
|-----------------------------------|--------------------------|
| i) Tine and the Faraway mountains | iii) Be Prepared         |
| ii) Before the Match              | iv) The Trumpet of Swans |

b) Who is the author of the lesson?

i) R K Narayan

iii) Kathryn Worth

ii) Shikha Tripathi

iv) E B White

c) Who does 'him' refer to in the above sentence?

i) Swaminathan

iii) Captain Rajam

iii) Head Master

iv) Doctor Kesavan

d) Which player caused him the deepest anxiety?

i) Mani

iii) Rajam

ii) Swaminathan

iv) HeadMaster

**2. Read the following extract and answer the questions that follow: - (1x4=4Marks)**

"Yet he will find a chink or two,

To slip his golden fingers through."

a) The extract is taken from the poem \_\_\_\_\_.

i)Seeds

iii) Summer Sun

ii)On the Bridge

iv) Smells

b) The author of the poem is \_\_\_\_\_

i) R L Stevenson

iii) Walter de la Mare

ii) Shikha Tripathi

iv) Kate Greenaway

c) Who will find a chink or two?

i) spider

iii) sky

ii) rain

iv) The sun

d) What does the term 'golden fingers' refer to?

i) fingers

ii) sun's rays

iii) curtains

iv) garden

**V Answer the following questions.**

**(4x2=8 Marks)**

1. Why was Mr. Oliver angry with the scouts after he returned from tracking?
2. In the poem, "On the Bridge," name the things the poet wishes to see.
3. Who saved the swan and how?
4. In the poem, "Seeds" what does the plant do after it has pushed its way to the surface of the ground?

**VI Answer the following questions.**

**(2x4=8 Marks)**

- a) What difficulties were faced by Tine and Cherring during their climb up the Everest?
- b) Why did the doctor refuse to give Swami a medical certificate? What did he offer to do instead?

XX



SINDHI HIGH SCHOOL, BENGALURU  
Half Yearly Exam [2024-25]  
Subject: Additional Hindi

original

Class: IV  
Date: 25.09.2024  
No. of sides: 5

Max. Marks: 60  
Reading time: 8:00 am to 8:15 am  
Writing Time: 8:15 am to 10:45 am

**Instructions:**

- Write your Name, Roll number, Section in the answer script.
- Read all the Questions carefully.
- Answer all the Questions and write neatly.

**निर्देश-**

1. प्रश्न-पत्र को चार खंडों में विभाजित किया गया है-क, ख, ग एवं घ ।
2. खंड क में अपठित गद्यांश पर आधारित प्रश्न हैं। (अंक-5)
3. खंड ख में व्याकरण पर आधारित प्रश्न हैं। (अंक-15)
4. खंड ग में पाठ्य पुस्तकों पर आधारित प्रश्न हैं। (अंक-30)
5. खंड घ में रचनात्मक लेखन पर आधारित प्रश्न हैं। (अंक-10)
6. सभी खंडों के प्रश्नों के उत्तर देना अनिवार्य है।

**खंड-क**

1. नीचे दिए गए गद्यांश को पढ़कर सही उत्तर वाले विकल्प चुनिए :- 1x5=5
- जंगल के किनारे नूरपुर गाँव में एक गधा रहता था। उसके मालिक का नाम सुखराम था। जंगल की हरी घास खाकर उसे बड़ा ही मज़ा आता था। उसे वहाँ कभी भी कोई खतरा महसूस नहीं होता था। एक दिन उसने झाड़ियों के पास सरसराहट सुनी। उसने सिर

**उठा**

कर देखा, तो उसके प्राण सूख गए। झाड़ियों के पीछे एक बाघ खड़ा था। गधे ने सोचा कि आज तो मारे गए, मगर आदमियों की संगत में रहकर वह भी चालाक हो गया था। उसने डरना छोड़ा और लँगड़ा-लँगड़ाकर चलने लगा। उसे घायल समझकर बाघ ने उसे नहीं मारा।

1. गधा कहाँ रहता था?

क. रामपुर गाँव में

ग. बूढ़पुर गाँव में

ख. नूरपुर गाँव में

घ. धर्मपुर गाँव में

2. गधा कहाँ जाकर घास खाता था?

क. नदी के किनारे

ग. गाँव में

ख. खेत में

घ. जंगल में

3. गधे ने सरसराहट कहाँ सुनी?



- क. झाड़ियों के पास  
ग. पत्तों के पीछे
4. बाघ से बचने के लिए गधे ने क्या चालाकी की?  
क. ज़ोर से आवाज़ करने लगा  
ग. लँगड़ा - लँगड़ाकर चलने लगा
5. 'प्राण सूख गए' का क्या अर्थ है ?  
क. मर गया ।  
ग. बहुत डर जाना ।

- ख. पेड़ के पीछे  
घ. नदी के पास
- ख. मरे हुए के समान लेट गया  
घ. गले में पड़ी घंटी बजाने लगा ।
- ख. खुश हो गया ।  
घ. दुखी हो गया ।

### खंड-ख

- II. क. दिए गए शब्दों के विलोम शब्द लिखिए :-  $\frac{1}{2} \times 2 = 1$
- क. धैर्य                      ख. सच
- ख. दिए गए शब्द के दो पर्यायवाची शब्द लिखिए :-  $\frac{1}{2} \times 2 = 1$
- क. वन
- ग. दिए गए शब्दों के समानार्थक शब्द लिखिए :-  $\frac{1}{2} \times 2 = 1$
- क. संदेश                      ख. प्रकृति
- घ. दिए गए अशुद्ध शब्दों को शुद्ध करके लिखिए :-  $\frac{1}{2} \times 2 = 1$
- क. प्रतीभा                      ख. शैतानीयों
- ङ नीचे दिए गए शब्दों के नाम के आगे उनके चिन्ह लगाइए :-  $\frac{1}{2} \times 2 = 1$
- क. प्रश्नवाचक चिन्ह                      ख. पूर्ण विराम
- च. नीचे दिए गए शब्दों के लिंग बदलिए :-  $\frac{1}{2} \times 2 = 1$
- क. मुर्गा                      ख. प्रधानाचार्य
- छ. नीचे दिए गए शब्द-समूहों को सही क्रम में लिखकर वाक्य बनाइए :-  $1 \times 2 = 2$
- क. का आदर करो बड़ो ।                      ख. किताब मेरी है यह ।
- ज. नीचे दिए गए शब्दों के साथ 'आपा' प्रत्यय जोड़कर नए शब्द बनाइए :-  $\frac{1}{2} \times 2 = 1$
- क. बूढ़ा + आपा                      ख. मोटा + आपा
- झ. दिए गए वाक्यांश के लिए एक शब्द लिखिए :-  $1 \times 1 = 1$
- क. किसी समस्या का हल निकालना =
- ञ. दिए गए मुहावरों के अर्थ लिखिए :-  $1 \times 2 = 2$
- क. उल्लू बनाना                      ख. सिर पकड़ना
- ट. नीचे दिए वाक्यों में आए दो संज्ञा और दो क्रिया शब्दों को छाँटकर लिखिए:-  $\frac{1}{2} \times 4 = 2$
- क. सुबह-सवेरे मुर्गा बाँग देता है।  
ख. राजन नदी में नहा रहा था।



ठ. उचित शब्द लिखकर वाक्य पूरे कीजिए :-

$\frac{1}{2} \times 2 = 1$

क. एक दिन बच्चों की गेंद गहरे ..... में गिर गई। ( कुएँ / तालाब )

ख. अब सब लोग रज्जी पर ..... करने लगे। ( गर्व / गौरव )

खंड-ग

III. क. पठित गद्यांश को पढ़कर सही उत्तर वाले विकल्प चुनिए :-

$1 \times 5 = 5$

एक साँप था। नाम था मंदविष। भूख के कारण वह लगातार दुबला होता जा रहा था। एक सुबह वह रेंगते हुए एक बड़े तालाब के पास पहुँचा और पसर गया। उस तालाब में मेंढकों का निवास था। मंदविष ने धीरे से अपने फन को ऊपर उठाया, कई मेंढक डर के मारे भाग खड़े हुए।

1. साँप का नाम क्या था?

क. मंदविष      ख. विषधर      ग. साँपराज      घ. सर्पराज

2. मंदविष रेंगते हुए कहाँ पहुँचा?

क. समुद्र के पास      ख. तालाब के पास  
ग. नदी के पास      घ. सागर के पास

3. मंदविष लगातार दुबला क्यों होता जा रहा था?

क. बीमारी के कारण      ख. दुख के कारण  
ग. भूख के कारण      घ. गरीबी के कारण

4. तालाब में कौन निवास करते थे?

क. साँप      ख. बतख      ग. मछली      घ. मेंढक

5. मंदविष ने धीरे से अपने ..... को ऊपर उठाया।

क. फन      ख. पूँछ      ग. आँख      घ. जीभ

ख. पठित गद्यांश को पढ़कर सही उत्तर वाले विकल्प चुनिए :-

$1 \times 5 = 5$

एक शहर में माधवदास नाम का एक सेठ रहता था। उन्होंने अपनी संगमरमर की नई कोठी बनवाई। उसके सामने बहुत सुहावना बगीचा भी लगवाया। उनको कला से बहुत प्रेम था। फव्वारों में उछलता हुआ पानी उनको बहुत अच्छा लगता था। देखते-देखते सामने की गुलाब की डाली पर एक चिड़िया आन बैठी। चिड़िया बहुत सुंदर थी। माधवदास को वह चिड़िया बड़ी मनभावनी लगी।

1. माधवदास को किससे प्रेम था ?

क. खेती से      ख. कला से      ग. खेल से      घ. धन से

2. माधवदास को क्या अच्छा लगता था?

क. फव्वारों से उछलता हुआ पानी      ख. समुद्र से उछलता हुआ पानी  
ग. झरनों का पानी      घ. नदियों में बहता हुआ पानी

3. चिड़िया कहाँ बैठी थी?

क. गेंदे की डाली पर ।

ख. कमल की डाली पर ।

ग. गुलाब की डाली पर ।

घ. सूरजमुखी की डाली पर ।

4. चिड़िया कैसी थी?

क. खुश

ख. भूखी

ग. बीमार

घ. सुंदर

5. माधवदास को चिड़िया कैसी लगी?

क. कुरूप

ख. छोटी

ग. मनभावनी

घ. अजीब

ग. प्रश्नों के उत्तर सही विकल्प चुनकर लिखिए :-

1x8=8

1. शीश उठाकर कौन कहता है?

क. सागर

ख. आकाश

ग. पर्वत

घ. नदी

2. रज्जी कौन सा काम मन से करता था?

क. पढ़ना

ख. निशाना लगाना

ग. दूसरों को परेशान करना

घ. शोर मचाना ।

3. गुलाब ने अपनी प्रशंसा किससे की?

क. किसान से

ख. माली से

ग. गेंदे से

घ. काँटे से

4. काम की तलाश में कौन घर से निकल पड़ा?

क. मज़दूर

ख. शेखचिल्ली

ग. सेठ

घ. माली

5. धैर्य न छोड़ने के लिए कौन कहती है?

क. तरल तरंग

ख. सागर

ग. नभ

घ. पृथ्वी

6. शेखचिल्ली ने किसके अंडे तोड़ दिए?

क. सेठ जी के

ख. पड़ोसी के

ग. दोस्त के

घ. अपने

7. माली को रज्जी ने कैसे डराया?

क. बिच्छू से

ख. मुँह बनाकर

ग. गुलेल चलाकर

घ. निशाना लगाकर

8. मिट्टी की चादर तानकर कौन ज़्यादातर सोता रहता है?

क. जड़े

ख. गुलाब

ग. पत्तियाँ

घ. तना

घ. प्रश्नों के उत्तर एक वाक्य में लिखिए :-

1x8=8

1. मृदुल उमंग भरने की बात कौन कहता है?

2. रज्जी को प्रधानाचार्य जी ने क्या बना दिया था?

3. कौन घमंड में सीधा खड़ा रहता है?

4. मैना कहाँ बैठी थी?

5. शेखचिल्ली घर से बाहर क्यों निकल पड़ा?

6. मैना और अन्य पक्षी दिन - रात किसलिए भटकते हैं?

7. रज्जी कौन था?

8. अंडे बेचकर शेखचिल्ली क्या खरीदना चाहता था?



ड दिए गए प्रश्नों के उत्तर दो वाक्यों में लिखिए :-

2x2=4

1. रज्जी का पूरा नाम क्या था और वह कैसा लड़का था?
2. गुलाब ने सहायता के लिए किसे पुकारा? वह किससे क्षमा माँगी?

खंड-घ

IV. क. नीचे दिए गए शब्दों की सहायता से पत्र पूरा कीजिए:-

$\frac{1}{2} \times 10 = 5$

(जन्मदिन, प्रार्थना, निमंत्रण, क्षमा, हर्ष, विश्वास, हार्दिक, कारण, शुभ, परीक्षाएँ)

27 कैंपापुरा

बेंगलूरु

दिनांक:-20/9/2024

प्रिय मित्र दैविक,

सप्रेम नमस्ते ।

\_\_\_\_\_ के उपलक्ष्य में कल ही मुझे तुम्हारा \_\_\_\_\_ पत्र प्राप्त हुआ।

तुम्हारा

जन्मदिन हम सब के लिए भी अत्यंत \_\_\_\_\_ का दिन है। मेरी \_\_\_\_\_ इच्छा थी कि मैं इस \_\_\_\_\_ अवसर पर अवश्य पहुँचूँ।

परंतु मेरी \_\_\_\_\_ अत्यंत निकट होने के \_\_\_\_\_ मैं स्वयं को असमर्थ पा रहा हूँ। मुझे \_\_\_\_\_ है मेरी मजबूरी को ध्यान में रखते हुए मुझे \_\_\_\_\_ करोगे। तुम्हारे जन्मदिन के शुभ अवसर पर मेरी ओर से हार्दिक बधाई व शुभकामनाएँ। मेरी ईश्वर से यही \_\_\_\_\_ है कि जीवन में वह सब कुछ तुम्हें प्राप्त हो जिसकी तुम कामना करते हो।

पुनः जन्मदिन की शुभकामनाओं के साथ-

तुम्हारी प्यारी सखी

प्रियंका

ख. नीचे दिए गए शब्दों की सहायता से अनुच्छेद पूरा कीजिए :-

$\frac{1}{2} \times 10 = 5$

मेरा प्रिय खेल ।

(विरोधी, टीम, क्रिकेट, दो, भारत, लोकप्रिय, ग्यारह, बल्लेबाज़ी, मैदान, पसंद)

मेरा प्रिय खेल \_\_\_\_\_ है। यह खेल \_\_\_\_\_ में बहुत \_\_\_\_\_ है। इस खेल में \_\_\_\_\_ टीमों होती है। एक \_\_\_\_\_ में \_\_\_\_\_ खिलाड़ी होते हैं। \_\_\_\_\_

करने वाली टीम के दो खिलाड़ी \_\_\_\_\_ में होते हैं। क्षेत्ररक्षण करने वाली टीम के सभी ग्यारह खिलाड़ी मैदान में होते हैं। मुझे यह खेल बहुत \_\_\_\_\_ है। मैं एक अच्छा बल्लेबाज़ हूँ। मुझे चौके-छक्के मारकर \_\_\_\_\_ टीम को इधर - उधर दौड़ाना अच्छा लगता है।

\*\*\*\*\*





SINDHI HIGH SCHOOL, BENGALURU  
HALF YEARLY EXAMINATION (2024-25)  
SUBJECT - L2-Kannada

Class: IV  
Date: 27/09/2024  
Number of printed sides: 6

Marks: 60  
Reading Time: 8:00am to 8:15am  
Writing Time: 8:15am to 10:45 am

**ಸೂಚನೆಗಳು:**

- \* ಪತ್ರಿಕೆಯು A ಮತ್ತು B ಎಂಬ ಎರಡು ಭಾಗಗಳನ್ನು ಒಳಗೊಂಡಿರುತ್ತವೆ.
- \* ಪ್ರಶ್ನೆಪತ್ರಿಕೆಯಲ್ಲಿ ಒಟ್ಟು 13 ಮುಖ್ಯ ಪ್ರಶ್ನೆಗಳಿರುತ್ತವೆ.
- \* ಪ್ರತಿಯೊಂದು ಪ್ರಶ್ನೆಗಳ ಸೂಚನೆಗಳನ್ನು ಸರಿಯಾಗಿ ಓದಿಕೊಂಡು ಉತ್ತರಿಸಿ.
- \* ಪ್ರಶ್ನೆ ಮತ್ತು ಉಪಪ್ರಶ್ನೆಗಳ ಸಂಖ್ಯೆಯನ್ನು ತಪ್ಪಿಲ್ಲದೆ ಬರೆಯಿರಿ.

ಭಾಗ- A (30 ಅಂಕಗಳು)	ವಾಚನ ಮತ್ತು ಗ್ರಹಿಕಾ ಕೌಶಲ್ಯ	15 ಅಂಕಗಳು
	ಅನ್ವಯಿಕ ವ್ಯಾಕರಣ	10 ಅಂಕಗಳು
	ಪಠ್ಯಪೂರಕ ಅಧ್ಯಯನ	5 ಅಂಕಗಳು
ಭಾಗ- B (30 ಅಂಕಗಳು)	ಬರವಣಿಗೆ ಕೌಶಲ್ಯ	8 ಅಂಕಗಳು
	ಪಠ್ಯಗಳ ಅಧ್ಯಯನ	22 ಅಂಕಗಳು
	ಒಟ್ಟು ಅಂಕಗಳು	60 ಅಂಕಗಳು

**PART- A. (30 ಅಂಕಗಳು )**

**SECTION - A**

**(ವಾಚನ ಮತ್ತು ಗ್ರಹಿಕಾ ಕೌಶಲ್ಯ) ಅಂಕಗಳು-15**

I. ಈ ಗದ್ಯಭಾಗವನ್ನು ಓದಿ ಕೊಟ್ಟಿರುವ ಪ್ರಶ್ನೆಗಳಿಗೆ ಸರಿಯಾದ ಉತ್ತರವನ್ನು ಆರಿಸಿ ಬರೆಯಿರಿ:-

5 x 1 = 5

ಪುರಂದರದಾಸರು 1494 ರಲ್ಲಿ ಜನಿಸಿದರು. ಇವರ ತಾಯಿಯ ಹೆಸರು ಲೀಲಾವತಿ ಮತ್ತು ತಂದೆಯವರ ಹೆಸರು ವರದಪ್ಪ ನಾಯಕ. ಶ್ರೀಮಂತ ವ್ಯಾಪಾರಿಯಾಗಿದ್ದ ವರದಪ್ಪ ನಾಯಕರು ಮಗುವನ್ನು ದೊಡ್ಡ ವ್ಯಾಪಾರಿಯನ್ನಾಗಿ ಮಾಡಬೇಕೆಂದು ಆಸೆಪಟ್ಟರು. ಪುರಂದರದಾಸರ ನಿಜವಾದ ಹೆಸರು ಶ್ರೀನಿವಾಸ ನಾಯಕ. ಯುವಕನು ಬೆಳೆದಂತೆ ಉತ್ತಮವಾದ ಶಿಕ್ಷಣವನ್ನು ಹೊಂದಿದ್ದನು. ಇವರು ಕನ್ನಡ ಮತ್ತು ಸಂಸ್ಕೃತದಲ್ಲಿ ಪರಿಣಿತರಾಗಿದ್ದರು. ಉತ್ತಮ ಸಂಗೀತಗಾರನಾಗಿದ್ದನು. ಶ್ರೀನಿವಾಸ ನಾಯಕರು ಆರಂಭದಲ್ಲಿ ದೇವರಲ್ಲಿ ಒಲವಿರಲಿಲ್ಲ. ಅವರು ಕುಟುಂಬದ ವ್ಯವಹಾರವನ್ನು ಮುಂದುವರೆಸಿದರು. ಯಾರಿಗೂ ಕಾಸು ಕೊಡದ ಜಿಪುಣನಾಗಿದ್ದ ಅವರನ್ನು 'ನವಕೋಟಿ ನಾರಾಯಣ' ಎಂದು ಕರೆಯಲಾಗುತ್ತಿತ್ತು.

ಕಾಲ ಕಳೆದಂತೆ ಅವರು ದೇವರಲ್ಲಿ ಅಪಾರ ಭಕ್ತಿಯನ್ನು ಹೊಂದಿ ದೇವರ ಆರಾಧನೆಯನ್ನು ಮಾಡುತ್ತ, ದೇವರ ಹಾಡುಗಳನ್ನು ಬರೆದು ಹಾಡುತ್ತ ಕಾಲಕಳೆಯುತ್ತಿದ್ದರು. ಇವರ ಅಂಕಿತನಾಮ 'ಪುರಂದರ ವಿಠಲ'. ದಂತಕಥೆಯ ಪ್ರಕಾರ ಪುರಂದರ ದಾಸರು ಕನ್ನಡ ಮತ್ತು ಸಂಸ್ಕೃತ ಭಾಷೆಯಲ್ಲಿ ಅನೇಕ ದೇವರ ಹಾಡುಗಳನ್ನು ಬರೆದಿದ್ದಾರೆ. ಪ್ರಸ್ತುತ ಸುಮಾರು 1000 ಹಾಡುಗಳು ಮಾತ್ರ ಲಭ್ಯವಿದೆ. ಪುರಂದರ ದಾಸರ

ಹಾಡುಗಳು ಶ್ರೀಕೃಷ್ಣನಲ್ಲಿ ಅವರ ಭಕ್ತಿಯನ್ನು ಬಹಿರಂಗಪಡಿಸುತ್ತವೆ. ಅವರು ಶ್ರೀಕೃಷ್ಣನ ಜೀವನದಲ್ಲಿ ಹಲವಾರು ಅನುಭವಗಳನ್ನು ಹಾಡುತ್ತಾರೆ. ಈ ಹಲವಾರು ಹಾಡುಗಳಲ್ಲಿ ಸಮಾಜದಲ್ಲಿ ಪ್ರಚಲಿತದಲ್ಲಿರುವ ಎಲ್ಲಾ ಹಲವಾರು ಆಡಂಬರಗಳನ್ನು ಮತ್ತು ದುರ್ಗುಣಗಳನ್ನು ಅವರು ತಿಳಿಸಿದ್ದಾರೆ. ಅವರನ್ನು 'ಕರ್ನಾಟಕ ಸಂಗೀತ ಪಿತಾಮಹ' ಎಂದು ಕರೆಯುತ್ತಾರೆ.

**ಪ್ರಶ್ನೆಗಳು:-**

- 1) ಪುರಂದರದಾಸರ ನಿಜವಾದ ಹೆಸರು \_\_\_\_\_  
 (A) ಗಂಗಾಧರ ನಾಯಕ (B) ಶ್ರೀನಿವಾಸ ನಾಯಕ  
 (C) ಶ್ರೀಧರ ನಾಯಕ (D) ಗೋವಿಂದ ನಾಯಕ
- 2) ಪುರಂದರದಾಸರು \_\_\_\_\_ ರಲ್ಲಿ ಜನಿಸಿದರು  
 (A) 1494 (B) 1495 (C) 1496 (D) 1497
- 3) ಕಾಸು ಕೊಡದ \_\_\_\_\_ ನಾಗಿದ್ದ ಪುರಂದರದಾಸರನ್ನು 'ನವಕೋಟಿ ನಾರಾಯಣ' ಎಂದು ಕರೆಯಲಾಗುತ್ತಿತ್ತು.  
 (A) ಧನಿಕ (B) ಬಡವ (C) ಜಿಪುಣ (D) ರಾಜ
- 4) ಪುರಂದರದಾಸರ ಅಂಕಿತನಾಮ \_\_\_\_\_  
 (A) 'ಹರಿ ವಿಠಲ' (B) 'ವಿಠಲ ವಿಠಲ' (C) 'ಗುರು ವಿಠಲ' (D) 'ಪುರಂದರ ವಿಠಲ'
- 5) ಪುರಂದರ ದಾಸರು \_\_\_\_\_ ಭಾಷೆಯಲ್ಲಿ ಅನೇಕ ಹಾಡುಗಳನ್ನು ಬರೆದಿದ್ದಾರೆ.  
 (A) ಕನ್ನಡ ಮತ್ತು ಸಂಸ್ಕೃತ (B) ಕನ್ನಡ ಮತ್ತು ಹಿಂದಿ  
 (C) ಹಿಂದಿ ಮತ್ತು ಸಂಸ್ಕೃತ (D) ಕನ್ನಡ ಮತ್ತು ತಮಿಳು

**II. ಈ ಕೆಳಗೆ ಕೊಟ್ಟಿರುವ 'ಸಹನೆ' ಈ ಪಠಿತ ಗದ್ಯಭಾಗವನ್ನು ಓದಿಕೊಂಡು, ಅದರ ಕೆಳಗೆ ಕೊಟ್ಟಿರುವ ಪ್ರಶ್ನೆಗಳಿಗೆ ಉತ್ತರ ಬರೆಯಿರಿ.**

**5 x 1 = 5**

ಒಂದು ಊರಿನಲ್ಲಿ ಒಬ್ಬ ಸಿರಿವಂತನಿದ್ದ. ಅವನು ತುಂಬಾ ಒಳ್ಳೆಯವನು, ಸದ್ಗುಣಶಾಲಿಯೂ ಆಗಿದ್ದನು. ಅವನ ಹೆಸರು ಸುಗುಣ ಪಾಟೀಲ. ಅವನ ಬಳಿ ಒಬ್ಬ ಪ್ರಾಮಾಣಿಕ ಹಾಗೂ ನಿಷ್ಠಾವಂತನಾದ ಸೇವಕನಿದ್ದ. ಅವನ ಹೆಸರು ಕೆಂಪರಾಜು. ಆತನನ್ನು ಕಂಡರೆ ಸುಗುಣ ಪಾಟೀಲರಿಗೆ ತುಂಬಾ ಪ್ರೀತಿ ಇತ್ತು. ಯಾವುದೇ ಕೆಲಸವನ್ನಾದರೂ ನಂಬಿಕೆಯಿಂದ ಕೆಂಪರಾಜುವಿಗೆ ವಹಿಸುತ್ತಿದ್ದರು. ಒಂದು ದಿನ ಕೆಂಪರಾಜು ಮನೆಯನ್ನು ಶುಚಿಗೊಳಿಸುತ್ತಿದ್ದ. ಮೇಜು ಒರೆಸುವಾಗ ಆಕಸ್ಮಾತ್ ಮೇಲಿದ್ದ ಹೂದಾನಿ ಕೆಳಗೆ ಬಿದ್ದು ಒಡೆದು ಚೂರಾಯಿತು. ಅದೇ ಹೊತ್ತಿಗೆ ಅಲ್ಲಿಗೆ ಬಂದಿದ್ದ ಸುಗುಣ ಪಾಟೀಲರು ಅದನ್ನು ಗಮನಿಸಿದರು.

ಆಗ ಸುಗುಣ ಪಾಟೀಲರು ಕೆಲಸ ಮಾಡುವಾಗ ಜಾಗೃತ ವಹಿಸಬೇಕು. ನಿಧಾನವಾಗಿ, ಅಚ್ಚುಕಟ್ಟಾಗಿ ಮಾಡಬೇಕು. ನೀನು ಹಾಗೆ ಮಾಡಿದ್ದರೆ ಹೀಗಾಗುತ್ತಿರಲಿಲ್ಲ ಎಂದು ಕೆಂಪರಾಜುವಿಗೆ ಹೇಳಿದರು. ನೀವು ಹೇಳಿದ್ದು ಸರಿ ಧಣಿ. ನಾನು ಕೆಲಸದ ಮೇಲೆ ನಿಗಾ ವಹಿಸದೆ ಹೀಗಾಯಿತು. ನಿಮ್ಮ ಇಷ್ಟದ ಹೂದಾನಿ ಹಾಳಾಯಿತು ನನ್ನದೆ ತಪ್ಪು ಇನ್ನೊಮ್ಮೆ ಹೀಗೆ ಮಾಡುವುದಿಲ್ಲ ಕ್ಷಮಿಸಿ ಎಂದನು. ಆಗ ಸುಗುಣ ಪಾಟೀಲರು ನೀನು ಬೇಕೊಂತ ಮಾಡಿಲ್ಲ. ಇದೇನು ಪ್ರಮಾದವೂ ಅಲ್ಲ. ನಿನ್ನ ತಪ್ಪು ನಿನಗೆ ಅರಿವಾಯಿತಲ್ಲ ಅದೇ ಮುಖ್ಯ ಎಂದು ಹೇಳಿದರು. ಕೆಂಪರಾಜುವಿಗೆ ಯಜಮಾನರ ಮಾತುಗಳು ಮೆಚ್ಚುಗೆಯಾದವು. ಲೋಕದಲ್ಲಿ ಎಲ್ಲರೂ ಹೀಗೆ ಇದ್ದಿದ್ದರೆ ಎಷ್ಟು ಒಳ್ಳೆಯದಿತ್ತು ಎಂದು ಮನದಲ್ಲಿ ಅಂದುಕೊಂಡರು.



**ಪ್ರಶ್ನೆಗಳು:-**

- 1) ಮೇಜು ಒರೆಸುವಾಗ ಆಕಸ್ಮಾತ್ ಕೆಳಗೆ ಬಿದ್ದು ಒಡೆದು ಚೂರಾದದ್ದು \_\_\_\_\_  
 (A) ಹೂದಾನಿ (B) ಬುಟ್ಟಿ (C) ಹಲ್ಲು (D) ಕೋಲು
- 2) ಕೆಂಪರಾಜುವನ್ನು ಕಂಡರೆ ಸುಗುಣ ಪಾಟೀಲರಿಗೆ ತುಂಬಾ \_\_\_\_\_ ಇತ್ತು.  
 (A) ಕೋಪ (B) ಪ್ರೀತಿ (C) ದ್ವೇಷ (D) ಸಿಟ್ಟು
- 3) ಕೆಂಪರಾಜುವಿಗೆ \_\_\_\_\_ ಮಾತುಗಳು ಮೆಚ್ಚುಗೆಯಾದವು .  
 (A) ಜವಾನರ (B) ಕೂಲಿಯವರ (C) ಯಜಮಾನರ (D) ಮಾವನವರ
- 4) ಲೋಕದಲ್ಲಿ ಎಲ್ಲರೂ ಹೀಗೆ ಇದ್ದಿದ್ದರೆ ಎಷ್ಟು ಒಳ್ಳೆಯದಿತ್ತು ಎಂದು \_\_\_\_\_  
 ಅಂದುಕೊಂಡರು.  
 (A) ಮನದಲ್ಲಿ (B) ತಲೆಯಲ್ಲಿ (C) ಮನೆಯಲ್ಲಿ (D) ತೋಟದಲ್ಲಿ
- 5) ಕೆಂಪರಾಜು ಇನ್ನೊಮ್ಮೆ ಹೀಗೆ ಮಾಡುವುದಿಲ್ಲ \_\_\_\_\_ ಎಂದನು.  
 (A) ಶಿಕ್ಷಿಸಿ (B) ಹೊಡೆಯಿರಿ (C) ಕ್ಷಮಿಸಿ (D) ಬಡಿಯಿರಿ

**III. ಈ ಕೆಳಗೆ ಕೊಟ್ಟಿರುವ ಎಚ್ .ಕೆ. ಆವಟಿಯವರು ಸಂಪಾದಿಸಿರುವ 'ಹಲ್ಲು ತಪಾಸಣೆ' ಪರಿತ ಪದ್ಯಭಾಗವನ್ನು ಓದಿಕೊಂಡು, ಅದರ ಕೆಳಗೆ ಕೊಟ್ಟಿರುವ ಪ್ರಶ್ನೆಗಳಿಗೆ ಉತ್ತರ ಬರೆಯಿರಿ.**

**5 x 1 = 5**

ವೈದ್ಯರು ಬಂದರು  
 ಶಾಲೆಯ ಒಳಗೆ  
 ಮಕ್ಕಳ ಹಲ್ಲು ತಪಾಸಣೆಗೆ||  
 ಒಬ್ಬನ ಜೇಬಲಿ  
 ಚಾಕಲೇಟ್ ಸಿಕ್ಕರೆ  
 ಪುಟಾಣಿ ಮಿಠಾಯಿ ಮತ್ತೊಬ್ಬನಲಿ||  
 ಬೆಂಡು ಬತ್ತಾಸು  
 ಒಬ್ಬನದಾದರೆ  
 ಕಡಲೆ ಶೇಂಗಾ ಇನ್ನೊಬ್ಬನದು||  
 ತಿನಿಸನು ತಿಂದ  
 ಎಲ್ಲರ ಹಲ್ಲನು  
 ವೈದ್ಯರು ತೆರೆದು ನೋಡಿದರು|  
 ಹಲ್ಲಿಗೆ ಹುಳುಕು  
 ಒಸಡಿಗೆ ರಕ್ತ  
 ವಾಸನೆ ಇದ್ದವು ಅವುಗಳಲಿ||  
 ಹುಳುಕೆ ಇಲ್ಲದ  
 ವೈದ್ಯರ ಹಲ್ಲಳು  
 ಹೊಳೆಯುತ್ತಲಿದ್ದವು ಲಕಲಕನೆ||

**ಪ್ರಶ್ನೆಗಳು :-**

- 1) ಮಕ್ಕಳ ಹಲ್ಲು ತಪಾಸಣೆಗೆ ವೈದ್ಯರು ಬಂದದ್ದು ಇಲ್ಲಿಗೆ \_\_\_\_\_  
 (A) ಮನೆಗೆ (B) ಶಾಲೆಗೆ (C) ಹೊಲಕ್ಕೆ (D) ತೋಟಕ್ಕೆ



- 2) ಇದನ್ನು ತಿಂದ ಹಲ್ಲನ್ನು ವೈದ್ಯರು ತೆರೆದು ನೋಡಿದರು.  
 (A) ತಿನಿಸನ್ನು (B) ಹಣ್ಣನ್ನು (C) ಕಹಿಯನ್ನು (D) ದೋಸೆಯನ್ನು
- 3) ಮಕ್ಕಳ ಒಸಡಿನಲ್ಲಿ ವೈದ್ಯರು ಕಂಡದ್ದು ಇದನ್ನು \_\_\_\_\_  
 (A) ನೀರನ್ನು (B) ತಿಂಡಿಯನ್ನು (C) ರಕ್ತವನ್ನು (D) ಚಾಕಲೇಟನ್ನು
- 4) ವೈದ್ಯರ ಹಲ್ಲುಗಳು ಹೀಗೆ ಹೊಳೆಯುತ್ತಿತ್ತು \_\_\_\_\_  
 (A) ಲಕಲಕನೆ (B) ಚಕಚಕನೆ (C) ಫಳಫಳನೆ (D) ಮಿರಿಮಿರಿ
- 5) ವೈದ್ಯರು ಹಲ್ಲನ್ನು ನೋಡದೆ ಮಕ್ಕಳ \_\_\_\_\_ ಏನುಂಟೆಂದು ಹುಡುಕಿದರು  
 (A) ಪೇಬಲಿ (B) ಜೀಲದಲಿ (C) ಕೈಯಲಿ (D) ಬೆರಳಲಿ

#### SECTION -B

( ಅನ್ವಯಿಕ ವ್ಯಾಕರಣ ಮತ್ತು ಪಠ್ಯಪೂರಕ ಅಧ್ಯಯನ ) ಅಂಕಗಳು -15

IV. ಕೆಳಗಿನ ಪ್ರತಿಯೊಂದು ಬಹು ಆಯ್ಕೆ ಪ್ರಶ್ನೆಗಳಿಗೆ ನಾಲ್ಕು ಉತ್ತರವನ್ನು

ಕೊಡಲಾಗಿದೆ ಸರಿಯಾದ ಉತ್ತರವನ್ನು ಆರಿಸಿ ಬರೆಯಿರಿ

7 x 1 = 7

- ' ಸಿರಿತನ ' ಈ ಪದದ ಸಮಾನಾರ್ಥಕ \_\_\_\_\_  
 (A) ಒಳ್ಳೆಯ (B) ಶ್ರೀಮಂತ (C) ಸಹನೆ (D) ಮನ
- ' ಗೆಳೆಯ ' ಈ ಪದದ ಅನ್ಯ ಲಿಂಗರೂಪ \_\_\_\_\_  
 (A) ಗೆಳತಿ (B) ಗೆಳೆಯನು (C) ಗೆಳೆಯನಿಗೆ (D) ಗೆಳೆಯನೇ
- ' ಸಮಾಧಾನ ' ಈ ಪದದ ವಿರುದ್ಧ ಪದ \_\_\_\_\_  
 (A) ಸಾಧನ (B) ಸಂಧಾನ (C) ಅವಸಾನ (D) ಅಸಮಾಧಾನ
- ' ಹೊಳೆ ' ಈ ಪದದ ನಾನಾರ್ಥಕ ರೂಪ \_\_\_\_\_  
 (A) ನದಿ- ಮಿನುಗು (B) ನದಿ- ಸಾಗರ (C) ಮಿನುಗು -ನಗು (D) ನದಿ - ನಗು
- ' ಇನ್ನು + ಒಬ್ಬ ' ಈ ಪದವನ್ನು ಕೂಡಿಸಿದಾಗ \_\_\_\_\_  
 (A) ಇನ್ನು ಒಬ್ಬ (B) ಇನ್ನೊಬ್ಬ (C) ಇಬ್ಬ (D) ಇಓಬ್ಬ
- ' ತಾವರಿ ' ಈ ಪದದ ಗ್ರಾಂಥಿಕ ರೂಪ \_\_\_\_\_  
 (A) ತವರು (B) ವರೆ (C) ತಾರೆ (D) ತಾವರೆ
- ' ನಲಿಯೋಣ ' ಪದ್ಯದಲ್ಲಿರುವಂತೆ ಈ ಪದದ ಪ್ರಾಸಪದ \_\_\_\_\_  
 (A) ಬೆಳೆಸೋಣ (B) ಬದುಕುವುದು (C) ನಡೆಯುವುದು (D) ಬಾಳುವುದು

V. ಸೂಚನೆಯಂತೆ ಬರೆಯಿರಿ.

3 x 1 = 3

- ವಿಶ್ರಾಂತಿ ಈ ಪದವನ್ನು ಬಳಸಿ ಸ್ವಂತವಾಕ್ಯ ಮಾಡಿರಿ.
- ಹಾಸಿಗೆ ಇದ್ದಷ್ಟು \_\_\_\_\_ ( ಈ ಗಾದೆಯನ್ನು ಪೂರ್ತಿಗೊಳಿಸಿ )
- ಅಕ್ಕರನು ಧನ್ಯವಾದವನ್ನು ತಿಳಿಸಿದನು.- ಈ ವಾಕ್ಯದಲ್ಲಿರುವ ಕರ್ತೃ ಮತ್ತು ಕ್ರಿಯಾಪದವನ್ನು ಬರೆಯಿರಿ.

VI. ಕೆಳಗಿನ ಪ್ರಶ್ನೆಗಳಿಗೆ ನಾಲ್ಕು ಉತ್ತರವನ್ನು ಕೊಡಲಾಗಿದೆ. ಅವುಗಳಲ್ಲಿ ಸರಿಯಾದ ಉತ್ತರವನ್ನು ಆರಿಸಿ ಬರೆಯಿರಿ.

5 x 1 = 5

1) ಮಕ್ಕಳು ಆಡುತ್ತಿದ್ದುದು ಇಲ್ಲಿ \_\_\_\_\_

(A) ಮೈದಾನದಲ್ಲಿ (B) ಹೊಲದಲ್ಲಿ (C) ಶಾಲೆಯಲ್ಲಿ (D) ತೋಟದಲ್ಲಿ

2) ಕನ್ನಡ ನಾಡು \_\_\_\_\_ ಗೊತ್ತು.

(A) ಚಂದದ (B) ಅಂದದ (C) ಗಂಧದ (D) ಚಿನ್ನದ

3) ನಗರ ಸಭೆಯ ಅಧ್ಯಕ್ಷರು ಕಸದ ಗಾಡಿ ತರಲು ಇವರಿಗೆ ಹೇಳಿದರು.

(A) ಜವಾನನಿಗೆ (B) ಮುಖಂಡನಿಗೆ (C) ಅಧಿಕಾರಿಗಳಿಗೆ (D) ಜನರಿಗೆ

4) ಕನ್ನಡ ನಾಡಿನ ಗಿರಿಗಳು ಇದನ್ನು ಮುಟ್ಟುತ್ತದೆ \_\_\_\_\_

(A) ಮುಗಿಲನ್ನು (B) ಕಟ್ಟಡವನ್ನು (C) ಕೈಯನ್ನು (D) ಬೆರಳನ್ನು

5) ಕನ್ನಡ ನಾಡು ಎಂತಹ ವೀರರ ನಾಡಾಗಿದೆ ?

(A) ತ್ಯಾಗದ-ಭೋಗದ (B) ತ್ಯಾಗದ-ತ್ಯಾಗದ  
(C) ಭೋಗದ-ಭೋಗದ (D) ವೀರರ -ವೀರರ

### PART- B. (30 ಅಂಕಗಳು )

#### SECTION - C

( ಬರವಣಿಗೆ ಕೌಶಲ್ಯ ) ಅಂಕಗಳು-8

VII. ನೀವು ,ನಿಮ್ಮ ಮನೆಯಲ್ಲಿ ನಡೆಯುವ ಗಣಪತಿ ಹೋಮದ ಪೂಜೆಯಲ್ಲಿ ಪಾಲ್ಗೊಳ್ಳಲು ಎರಡು ದಿನಗಳ ರಜೆಯನ್ನು ಕೇಳಿ ತರಗತಿ ಶಿಕ್ಷಕರಿಗೊಂದು ಪತ್ರ ಬರೆಯಿರಿ.

4

VIII. ಈ ಕೆಳಗಿನ ಯಾವುದಾದರೂ ಒಂದು ವಿಷಯವನ್ನು ಕುರಿತು 6 -7 ವಾಕ್ಯಗಳಲ್ಲಿ ಕಿರು ಟಿಪ್ಪಣಿ ಬರೆಯಿರಿ:-

4

1. ಕಾಡಿನ ಉಪಯೋಗ

2. ಆರೋಗ್ಯದ ಮಹತ್ವ

#### SECTION -D

( ಪಠ್ಯಗಳ ಅಧ್ಯಯನ ) ಅಂಕಗಳು-22

IX. ಈ ಕೆಳಗಿನ ಪ್ರಶ್ನೆಗಳಿಗೆ ಒಂದು ವಾಕ್ಯದಲ್ಲಿ ಉತ್ತರಿಸಿ.

4 x 1 = 4

1) ರಂಗ ಮತ್ತು ಸಾಧಿಕ್ ಪ್ರತಿದಿನ ಯಾವುದರಲ್ಲಿ ಶಾಲೆಗೆ ಹೋಗುತ್ತಿದ್ದರು?

2) ಕಾಗೆ ಎಣಿಸಲು ಬೀರಬಲ್ಲವನು ಎಷ್ಟು ದಿನಗಳ ಕಾಲಾವಕಾಶ ಕೇಳಿದ?

3) ನಾವು ಏನನ್ನು ಬೆಳಗಬೇಕು?

4) ಹಣ್ಣು ನೋಡಿ ಯಾರಿಗೆ ಆಸೆಯಾಯಿತು?

X. ಈ ಕೆಳಗಿನ ಪ್ರಶ್ನೆಗಳಿಗೆ ಎರಡು - ಮೂರು ವಾಕ್ಯದಲ್ಲಿ ಉತ್ತರಿಸಿ.

4 x 2 = 8

- 1) ತೊಟ್ಟಿಲ ಕೂಸಿಗೆ ದೃಷ್ಟಿಯಾಗಬಾರದೆಂದು ತಾಯಿ ಏನು ಮಾಡುತ್ತಾಳೆ?
- 2) ನಾವು ಭಾರತ ಮಾತೆಯ ಮಂದಿರದಲ್ಲಿ ಹೇಗೆ ವಿಶಾಲ ಹೃದಯಗಳಾಗಿ ಬಾಳಬೇಕು?
- 3) ಹಿರಿಯರು ಮಕ್ಕಳಿಗೆ ನೀಡಿದ ಹಿತವೆಚನವೇನು?
- 4) ಪೊದೆಯಲ್ಲಿದ್ದ ಹಾವನ್ನು ಕಂಡ ಸಾಧಿಕ್ ರಂಗನಿಗೆ ಏನೆಂದನು?

XI. ಈ ಕೆಳಗಿನ ಪ್ರಶ್ನೆಗೆ ಮೂರು - ನಾಲ್ಕು ವಾಕ್ಯಗಳಲ್ಲಿ ಉತ್ತರಿಸಿ.

3 x 1 = 3

- 1) 'ಗಣತಿ' ಈ ಪದದ ಅರ್ಥವೇನು? ಅಕ್ಕರನು 'ಪುನಃ ಗಣತಿ ಮಾಡಿದಾಗ ಕಾಗೆಗಳು ಹೆಚ್ಚು ಕಡಿಮೆಯಾದರೆ' ಎಂದಾಗ ಬೀರಬಲ್ಲನು ನೀಡಿದ ಉತ್ತರವೇನು?

XII. ಈ ಕೆಳಗಿನ ಪ್ರಶ್ನೆಗೆ ಮೂರು - ನಾಲ್ಕು ವಾಕ್ಯಗಳಲ್ಲಿ ಉತ್ತರಿಸಿ.

3 x 1 = 3

- 1) ಕಿರುಗೆಜ್ಜೆ ಯಾರು ಮಾಡಿಸಿಕೊಟ್ಟಿದ್ದು ಮತ್ತು ಕಂದನಿಗೆ ತಾಯಿ ಅದನ್ನು ತೊಡಿಸುವ ಸಂದರ್ಭವನ್ನು ತಿಳಿಸಿರಿ.

XIII. ಈ ಮಾತನ್ನು ಯಾರು ಯಾರಿಗೆ ಹೇಳಿದರು:

2 x 2 = 4

- 1) " ಹಣ್ಣು ಎಲ್ಲಿ ಬಿತ್ತು, ಹೇಳು?"
- 2) " ಇನ್ನು ಮುಂದೆ ಹೀಗೆ ಮಾಡುವುದಿಲ್ಲ."

\*\*\*\*\*





Sindhi High School, Bengaluru.  
Half Yearly Examination. (2024 -25)  
Subject - Mathematics.

Class : 4

Date : 30. 9. 2024

No. of printed sides : 4

Max Marks : 60

Reading time : 8: 00 to 8: 15am

Writing time : 8:15 to 8:45 am

**GENERAL INSTRUCTIONS.**

1. Write your name, roll number, class and section, date and subject clearly in your answer script.
2. This question paper has five sections A to E.
3. SECTION – A has 14 MCQs carrying 1 mark each.
4. SECTION – B has 4 questions carrying 2 marks each.
5. SECTION – C has 5 questions carrying 3 marks each.
6. SECTION – D has 3 questions carrying 5 marks each.
7. SECTION – E has 2 case study questions carrying 4 marks each.

Sl no	SECTION - A	Marks
	Choose the correct answer.	
1	The number of edges in a cuboid is ----- a. 6.                      b. 12                      c. 8                      d. 4	1
2	The sum of VI and VIII in Roman numerals is ----- a. VI                      b. VII                      c. XV                      d. XIV	1
3	The even number next to 1818 is ----- a. 1816                      b. 1819                      c. 1800                      d. 1820	1
4	The product of 200 and 10 is ----- a. 2000                      b. 20,000                      c. 2,00,000                      d. 200	1
5	19,370 is less than 20,370 by ----- a. 100                      b. 1000                      c. 10,000                      d. 10	1
6	(81,781 , 81, 771 , 81,761 ) The next number in this pattern is ---- a. 81,751                      b. 81,791                      c. 81,771                      d. 81,741	1
7	Multiples of 4 which lie in between 15 and 21 are ----- a. 16, 21                      b. 15, 20                      c. 16, 18                      d. 16, 20	1

8	Two dozens of bananas contains ---- bananas a. 12                      b. 10                      c. 24                      d. 20	1
9	If 40 chocolates of the same variety together costs Rs. 40, the cost of one chocolate is ----- a. Rs.10                      b. Re.1                      c. Rs.2                      d. Rs.40	1
10	The short form of $80,000 + 800 + 8$ is ----- a. 80,808                      b. 80,808                      c. 80,800                      d. 88,808	1
11	A straight line drawn in between two points is called as a ----- a. line                      b. line segment                      c. angle                      d. ray	1
12	In the division sum $423 \div 3 = 141$ , the dividend is ----- a. 423                      b. 0                      c. 141                      d. 3	1
13	If the diameter of a circle is 22cms, its radius is ----- a. 17cms                      b. 11cms                      c. 44cm                      d. 12cms	1
14	A few common factors of 10 and 20 are ----- a. 2 and 3                      b. 2 and 5                      c. 5 and 6                      d. 4 and 6	1
	SECTION - B	
15	a. Find the greatest and the smallest five digit numbers that can be formed using the digits 7, 8, 1, 6. b. Find the successor and the predecessor of 1,00,000.	2
16	Draw a line segment of length 8cms and name it.	2
17	Divide 5698 by 20 using long division method.	2
18	Ms. Jayashree had Rs. 8,75,000 in her bank account. She bought a Television for Rs.1,68,500. How much money she had in her account after the purchase of Television.	2
	SECTION - C	
19	a. Multiply using expanded form. $724 \times 5$ b. Find the answer using doubling method. If $15 \times 4 = 60$ , $15 \times 8 = ?$ c. Find the product by combining the factors. $5 \times 31 \times 2$	1 1 1
20	a. Is 98 a multiple of 3? b. Is 6 a factor of 78? c. List down the factors of 21.	1 1 1
21	Complete these statements using the properties. a. $115 + 215 + 315 = 315 + \text{-----} + 115$ b. $19,791 + \text{-----} = 19,791$ c. $21,438 - \text{-----} = 0$	1 1 1



22 Find the quotient and remainder without actual division.

3

Serial no.	Division sum	quotient	remainder
1.	$71,612 \div 10$	.....	.....
2.	$47,900 \div 100$	.....	.....
3.	$3,16,923 \div 1000$	.....	.....

23 Simplify.  
 $38,423 + 41,869 - 28,239$

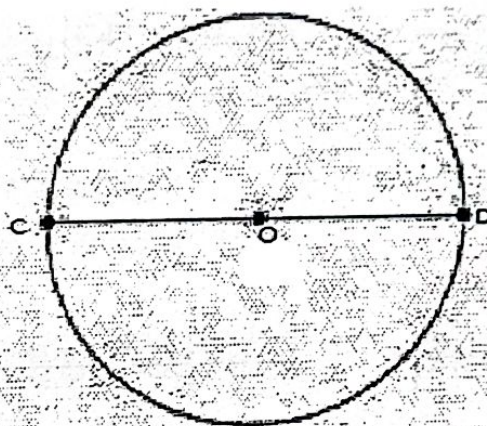
3

### SECTION D

- 24 a. In a tailor shop, 370 buttons are packed in one carton box. How many buttons can be packed in 25 such carton boxes?
- b. In a book shop, 95 almirahs are there. Each almirah can hold 100 books. How many books can be arranged in all the almirahs together?

5

25. Observe the given figure and answer.



- a. Centre = \_\_\_\_\_
- b. Radius = \_\_\_\_\_
- c. Diameter = \_\_\_\_\_

5

Complete these statements:

- d. Boundary of the circle is called \_\_\_\_\_
- e. If the radius of a circle is 8cm, its diameter is \_\_\_\_\_

26


- a. 9765 litres of water was supplied to 15 homes in a day equally. How many litres of water did each home get?
- b. Ms. Meera divided Rs. 3660 equally between 3 workers. How much did each worker get?

5



# SECTION E

- 27 Mr. Manan distributes 355 food packets equally to 25 families during the flood time.



- a. How many food packets has he got?
- b. How many packets does each family get?
- c. How many packets would have been left over?

1  
2  
1

- 28 Mr. Rohith Sharma decided to sell his house when he became old.



He had 3 children (two sons and one daughter). He sold his house for Rs. 9,82,000. He gave 3 lakhs to his elder son and 3 lakhs to his younger son. The remaining amount he gave to his daughter.

- a. How much money did he give for both the sons together?
- b. How much money did he give to his daughter?
- c. Who got more money from Mr. Rohit Sharma?

1  
2  
1



**SINDHI HIGH SCHOOL, BANGALORE**  
**HALF YEARLY EXAMINATION- (2024-25)**

**Subject – SCIENCE**

**Class: IV**

**Max Marks:60**

**Date:- 03.10.2024**

**Timings: 8:00 to 10:45 am**

**No. of sides: 3**

**Reading time: 8:00-8:15 am**

**Writing time: 8:15- 10:45 am**

**General Instructions:**

**This Question paper has 4 Sections A-D**

**All questions are compulsory.**

**Answer all the questions and write neatly**

---

**SECTION – A**

**I. MCQ**

**(  $\frac{1}{2}$  x 8=4)**

i) The function of a leaf is to

- (a) absorb water from soil
- (b) make food for the plant
- (c) protect the plant from insects
- (d) anchor the plant to the ground

ii) Extra food in the plants is stored in the form of

- a) Chlorophyll
- b) Veins
- c) Starch
- d) Glucose

iii) Roots found in the plants of grassland are called as \_\_\_\_\_

- a) Deep root
- b) Breathing root
- c) Floating root
- d) Primary root

iv) Plants in coastal areas are called

- a) Deciduous trees
- b) Evergreen trees
- c) Aquatic plants
- d) Insectivorous plants

v) The nutrient which helps in the clotting of blood from any injury

- a) Fats
- b) Protein
- c) Vitamin K
- d) Carbohydrates

vi) The substance which is present in our diet that cannot be digested but helps to remove waste from our body is

- a) Iron
- b) Iodine
- c) Calcium
- d) Roughage

vii) When the child is above two years of age, he/she has

- a) 16 teeth                      b) 32 teeth
- c) 20 teeth                     d) 25 teeth

viii) Magnet attracts

- a) wooden objects                      b) plastic objects
- c) metallic objects such as iron      d) glasswares

**II Define the following:**

(1 x 4= 4)

- i) Gravitational force.
- ii) Germ.
- iii) Digestion.
- iv) Parasite.

**III. Match the Following**

(1 x 4= 4)

- |                    |                                   |
|--------------------|-----------------------------------|
| 1. Stomata         | has wide leaves to float on water |
| 2. Water lily      | used in bread to make it fluffy   |
| 3. Large Intestine | help in gas exchange              |
| 4. Fungi           | absorbs water from the waste      |

**IV. Analogy**

(1 x 4=4)

- 1. Magnetic: Magnetic force::Crane:
- 2. Lotus: Fixed plant :: Duckweed:
- 3. Wheat: Carbohydrate :: Butter:
- 4. Pneumonia:                      :: Malaria: Protozoa

**V. Give two examples for each**

(1 x 3=3)

- 1. Plants which store food in roots.
- 2. Food that is preserved by Canning.
- 3. Diseases caused by virus.

**VI. Give reason**

(1 x 2=2)

- 1) We need to drink 8-10 glasses of water in a day.
- 2) We use plants like Hydrilla and Tapegrass in aquarium.

## SECTION-B

(2 x 7=14)


- 1. A green leaf is known as the kitchen of the plant. Justify.
- 2. The balance between the plants and animals needs to be maintained in nature. Justify.  
(Any two points)
- 3. Riya went out of station for 4-5 days. It was summer so she kept the potted plants inside the room which was a bit dark. On her return she found that the plant was wilted. What do you think would be the reason?
- 4. What is a balanced diet?
- 5. When two surfaces slide over each other, which force does it act upon? Explain.
- 6. We must wash the vegetables before cutting. Why?
- 7. What are the effects of force?



### SECTION-C

(3 x 5=15)

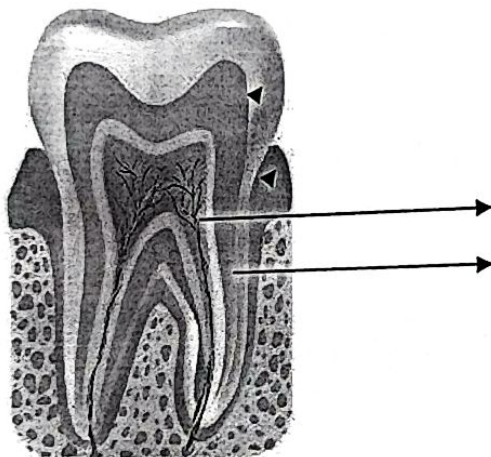
1. How do you take care of teeth.(Mention six points)
2. Name the different parts of the digestive system.
3. Draw a neat labelled diagram to show photosynthesis in plant .
- 4.



- a) Identify the plant in the image given above and write its habitat. (1)
  - b) Write the characteristics of this plant which helps it to survive in that particular habitat. (2)
- 5 a) A force acts on a ball thrown in the air for it to come back to the earth. Identify the force. (1)
- b) Rohan is lifting a box. Which type of force is being applied? (1)
  - c) Vrishti was on the balcony when, she observed lightning and heard thunder. Curious, she wondered about the force driving this process. What was it? (1)

### SECTION-D (5 x 2=10)

1. a) How do our teeth decay? Explain. (3)
- b) Label any four parts of the structure of the tooth for the image given below.



2. a) Write a short note on insectivorous plants. Give two examples. (3)
- b) How is bamboo plant useful to humans? (2)



**SINDHI HIGH SCHOOL**  
**HALF YEARLY EXAMINATION (2024-25)**  
**SUBJECT - SOCIAL SCIENCE**

Date : 20-09-24

Class: IV

Number of printed sides: 4

Marks: 60

Reading Time: 8:00 to 8:15 am




Writing Time: 8:15 to 10:45 am

**General Instructions:**

- Write your Name, Roll number, Section in the answer script.
- Read all the Questions carefully.
- Answer all the Questions and write neatly.

**Section - A**

	Choose the correct answer	(1X5=5)
1	The northern Plains of India are _____. a) very fertile    b) Not fertile    c) Desert    d) Very small	1
2	The oldest landmass of India is the _____. a) Northern Plains    b) Himalayas c) Southern Plateau    d) Thar Desert	1
3	Mount Abu lies in the _____. a) Himalayan region    b) Desert region c) Coastal region    d) Deccan region	1
4	_____ is not a natural resource. a) Soil    b) Water    c) Road    d) Rocks	1
5	Government works at _____ levels in India. a) two    b) three    c) four    d) five	1
<b>II</b>	<b>Name the following</b>	<b>(1X5=5)</b>
1	A hill station of West Bengal _____.	1
2	A table land is also called as _____.	1

3	The weather condition prevailing over a large area for a long period of time _____.	1
4	_____ is known as black diamond.	1
5	The head of the municipal corporation is called _____.	1
III.	Give two examples	(1X5=5)
1	Wild animals found in Southern Plateau region –	1
2	Popular dance forms of Punjab –	1
3	Seasons of India –	1
4	Natural Resources –	1
5	Cities which have Municipal Corporations –	1
IV.	Analogy.	(1X3=3)
1	Summer : _____ :: Winter : Fog.	1
2	Uttar Pradesh : Ganga Basin :: Assam : _____.	1
3	City : Municipal Corporation :: Villages : _____.	1
V.	Identify the pictures.	(1X3=3)
	<div style="display: flex; justify-content: space-around; align-items: center;"> <div style="text-align: center;">  <p>A</p> </div> <div style="text-align: center;">  <p>B</p> </div> <div style="text-align: center;">  <p>C</p> </div> </div>	



VI.	Search for the six tributaries of Ganga	(1/2 X 6 = 3)																																																
	<table><tr><td>G</td><td>A</td><td>S</td><td>O</td><td>N</td><td>M</td><td>N</td><td>R</td></tr><tr><td>O</td><td>Y</td><td>A</td><td>M</td><td>U</td><td>N</td><td>A</td><td>O</td></tr><tr><td>M</td><td>B</td><td>E</td><td>G</td><td>I</td><td>L</td><td>O</td><td>S</td></tr><tr><td>A</td><td>G</td><td>A</td><td>N</td><td>D</td><td>A</td><td>R</td><td>I</td></tr><tr><td>T</td><td>D</td><td>F</td><td>H</td><td>J</td><td>K</td><td>P</td><td>Q</td></tr><tr><td>I</td><td>C</td><td>H</td><td>A</td><td>M</td><td>B</td><td>A</td><td>L</td></tr></table>	G	A	S	O	N	M	N	R	O	Y	A	M	U	N	A	O	M	B	E	G	I	L	O	S	A	G	A	N	D	A	R	I	T	D	F	H	J	K	P	Q	I	C	H	A	M	B	A	L	
G	A	S	O	N	M	N	R																																											
O	Y	A	M	U	N	A	O																																											
M	B	E	G	I	L	O	S																																											
A	G	A	N	D	A	R	I																																											
T	D	F	H	J	K	P	Q																																											
I	C	H	A	M	B	A	L																																											
	Section B																																																	
VII.	Answer the following questions	(1X6=6)																																																
1	When are the elections of the municipal corporation held?	1																																																
2	What are exhaustible resources?	1																																																
3	What is a Plateau?	1																																																
4	Why do people visit hill stations during summers?	1																																																
5	Define Basin.	1																																																
6	What is alluvium?	1																																																

	<b>Section C</b>	
VIII	Answer the following	(2X5=10)
1	Write any two importance of the plateau region.	2
2	What is a natural resource? Give 2 examples.	2
3	Differentiate between weather and climate.	2
4	Give any two examples of tax collected by the government.	2
5	Define Delta.	2
	<b>Section D</b>	

IX	Answer the following questions	(3X5=15)								
1	Write any three ways by which we can conserve the resources.	3								
2	Describe the climate and vegetation in the Southern Plateau region.	3								
3	Write and Explain any three factors affecting the climate of a place.	3								
4	<b>Complete the table.</b> <table><tr><td>State</td><td>Capital</td><td>Crops</td><td>Traditional Food</td></tr><tr><td>Bihar</td><td></td><td></td><td></td></tr></table>	State	Capital	Crops	Traditional Food	Bihar				3
State	Capital	Crops	Traditional Food							
Bihar										
5	Write about the three functions of a municipal committee or a corporation.	3								
Section E										
X.	On the political map of India, locate the following places.	(1x5=5)								
a	The capital of India.	1								
b	The Bay of Bengal.	1								
c	The state where we live.	1								
d	The Ocean named after India.	1								
e	State where Taj Mahal is located.	1								



Class: IV

Date: 01/10/2024

No of Printed Sides: 2

Max Marks: 30

Reading Time: 8:00 a.m. to 8:15 a.m.

Writing Time: 8:15 a.m. to 9:15 a.m.

**I. Choose the correct option.**

**(5X1=5)**

1. Which type of computer is used to fill entire rooms and is known for handling important tasks for big companies?  
a) Micro Computer    b) Mainframe Computer    c) Minicomputer    d) Super Computer
2. What does RAM in a computer function as?  
a) A storage unit for long-term data    b) Temporary memory for currently used data  
c) A CD reader    d) A toy box for storing toys
3. What does the Stamp Tool in Tux Paint allow you to do?  
a) Apply Stickers to your drawings    b) Resize your drawings  
c) Add text to your drawings    d) Change Colours in your drawings
4. What does the canvas in MS Paint represent?  
a) The computer's hard drive    b) A blank sheet for drawing and painting  
c) The internet browser    d) A document editor
5. Which button is used to print a document in Microsoft Word?  
a) Save    b) Print    c) Open    d) New

**II. Fill in the blank.**

**(5X1=5)**

1. \_\_\_\_\_ is a type of computer that is portable and convenient to carry around.
2. \_\_\_\_\_ tool helps you draw straight lines in Tux Paint
3. An \_\_\_\_\_ is a step-by-step instruction to solve a problem.
4. \_\_\_\_\_ block is used to make a sprite move in PictoBlox
5. \_\_\_\_\_ button is used to go back or erase the last change done in the document.

**III. Say True or False.**

**(6X ½=3)**

1. RAM is a type of permanent memory.
2. We can use the "Fill" tool in MS Paint to draw shapes.
3. The "Eraser" tool is used to delete images.
4. The "Sprites" in PictoBlox are the characters in our program.